
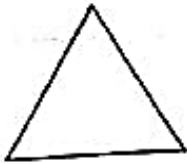


تاریخ: ..... پایه: ..... درس: ..... موضوع: ..... ریاضی

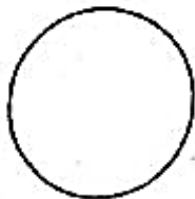
در هر قسمت تفاوت و شباهت شکل‌ها را بنویسید.



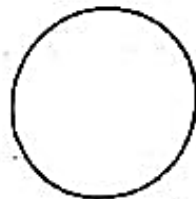
تفاوت:

شباهت:


ساعت‌های نوشته شده بر روی ساعت‌های کشیده شده نشان بده.



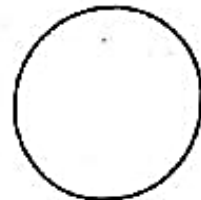
۱۲:۱۷"



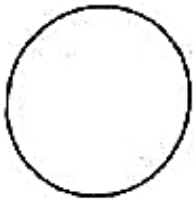
۴:۲۷"




۸:۴۸"




۱۰:۵۷"



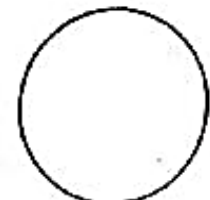
۱:۳۸"



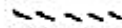
۲:۰۲



۵:۱۹"



۱۲:۰۰







تاریخ: ..... پایه: ..... (مجموعه) موضوع: ..... (برای صحنه)

در یک ساختمان هر طبقه با ۴ چینه ساخته می‌شود. طبقه‌های چهارم و پنجمی ششم با چند چینه ساخته می‌شود؟

تفاوت و شباهت اشکال زیر را بنویسید.



تفاوت:

شباهت:

از روش تقریب حل کنید.

$$\begin{array}{r} 44 \\ + 54 \\ \hline \end{array} \rightarrow$$

$$\begin{array}{r} 75 \\ - 44 \\ \hline \end{array} \rightarrow$$

$$\begin{array}{r} 44 \\ + 45 \\ \hline \end{array}$$

$$\begin{array}{r} 84 \\ - 55 \\ \hline \end{array}$$

از روش نزدیک‌سازی حل کنید.