



کاربرگ ۱ ۱۴۰۲/۱۰/۳

نام و نام خانوادگی:

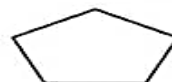
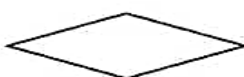
برای شکل روبه رو یک تفاوت و یک شباهت بنویسید.



تفاوت: .....

شباهت: .....

در هر کدام از تصویرهای زیر، ضلع‌ها و گوشه‌ها را مشخص کنید. شکلی که با بقیه فرق دارد را رنگ کرده و دلیل این تفاوت را بنویسید.

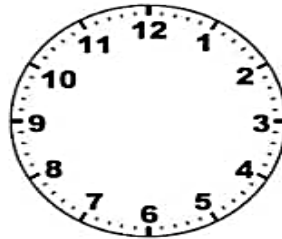


.....


زمان‌های زیر را روی ساعت نشان دهید و با حروف بنویسید.



۱۱:۴۵



۸:۱۰



۳:۱۵

.....

جمع و تفریق‌های زیر را به صورت فرآیندی حل کنید.

$$\begin{array}{r} 98 \\ - 12 \\ \hline \end{array}$$

$$\begin{array}{r} 23 \\ + 24 \\ \hline \end{array}$$

$$\begin{array}{r} 67 \\ - 23 \\ \hline \end{array}$$





کاربرگ ۲ ۱۴۰۲/۱۰/۳

نام و نام خانوادگی:

۶- کلمات هم معنی را به هم وصل کنید. (بهتر است از رنگ های متنوع استفاده نمایید.)



قدیم	خشمگین
عصبانی	برنا
مانند	شبه
جوان	کهن

۷- کلمه ی مشترک را پیدا کنید.



گلداز - گلریز - گل فروش



سالگرد - سالنامه - سالروز

۸- جمله های مربوط به هم را به یک دیگر وصل کن.

- هر که بامش بیش
- قطره قطره جمع گردد
- پایت را از گلیمت
- دراز تر نکن
- برقش بیش تر
- وانگهی دریا شود

۹- فرزندم ، با کمک بزرگ ترها ضرب المثلی بنویسید که در آن دو واژه ی ( خوار و کار ) استفاده شده است.

مفهوم این ضرب المثل چیست؟

ضرب المثل ←

مفهوم ضرب المثل ←

۱۰- جملات زیر را به سلیقه ی خود ادامه دهید.

😊 تمام آرزوهای تو به حقیقت می پیوندد اگر .....

.....

😊 من در بهترین شرایط هستم چون .....

.....

اگر امروز حتی یک کلمه بیش تر از دیروز بدانید، مسلماً شخص دیگری هستید.







تکلیف اختیاری ۱۴۰۲/۱۰/۳

نام و نام خانوادگی:

- حاصل تفریق هارا با رسم شکل پیدا کنید.



- حاصل جمع ها را به دست آورید.

$$5 + 5 + 20 + 10 =$$

$$10 + 5 + 30 + 2 + 1 =$$

$$2 + 50 + 10 + 1 =$$

$$20 + 10 + 10 + 2 + 4 + 3 =$$

$$40 + 1 + 1 + 1 + 2 + 5 =$$



- الگو های عددی را ادامه دهید.

$$6 - 12 - 18 - \quad - \quad - \quad - \quad -$$

$$4 - 8 - 12 - \quad - \quad - \quad - \quad -$$

$$7 - 14 - 21 - \quad - \quad - \quad - \quad -$$

$$3 - 6 - 9 - \quad - \quad - \quad - \quad -$$

$$8 - 16 - 24 - \quad - \quad - \quad - \quad -$$



- در شمارش ۴ تا ۴ تا عدد بعد از ۲۰ را پیدا کنید.....

- در شمارش ۳ تا ۳ تا عدد بعد از ۱۸ چند است؟.....

- در شمارش ۶ تا ۶ تا عدد قبل از ۳۰ چند است؟.....

