

سپهر
دانش پژوهان کیش


سپهر

آدینه ی آسمان

سال سوم

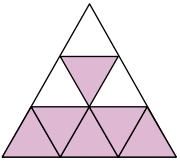
۶۴۳۵۵۰۲

۱ طبق کسرهای نوشته شده، بادکنک‌ها را رنگ کنید.

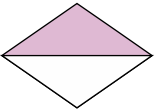


۲ در هر شکل، چه کسری از آن رنگ شده است؟ زیر آن بنویسید.

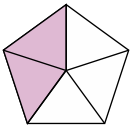
الف



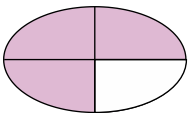
ب



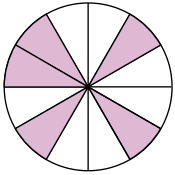
پ



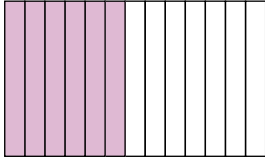
ت



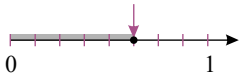
ت



ج



ح



۳ جدول زیر را مانند نمونه کامل کن.

قسمت دوم	قسمت اول	جمله
کردم	من اتاقم را مرتب	من اتاقم را مرتب کردم.
.....	او شعرهای زیبایی می گوید.
.....	معلم روی تخته آهوی زیبایی کشید.
.....	کودک از تاریکی می ترسید.
.....	پستیچی بسته ای بزرگ به ما داد.
.....	من او را نمی شناسم.

۴ شعر زیر را کامل کن.

.....	دیروز می گشتم
به به! چه گل هایی!
.....	برگ درختان را
بلبل شفا می داد

۵ مقابل هر کلمه سه واژه بنویسید که با آن تناسب داشته باشد.

برگ، ، ،
باران، ، ،

۶ در هر ردیف دور کلمه‌ی خواسته‌شده، خط بکشید.



۷ بازتابش نور را تعریف کنید؟

۸ رود چگونه به وجود می‌آید؟

۹ در اجسام رنگی و براق، بازتابش به چه صورت است؟

۱۰ برای دیدن اجسام چه شرایطی لازم است؟

۱۱ جاهای خالی را با کلمه‌ی مناسب پر کنید.

(الف) به اجسامی که نور تولید می‌کنند می‌گوییم.
(ب) وقتی به اجسام نور می‌تابد آن نور را می‌دهند.

۱۲ جای خالی را با کلمات مناسب پر کنید.

الف صدای ما را به سوی خدا دعوت می‌کند.

ب نماز ظهر، عصر و عشا رکعت و نماز مغرب رکعت و نماز صبح رکعت است.

۱۳ آیه‌ی «وَقُلْ لَّهُمَا قَوْلًا كَرِيمًا» به چه معناست؟

۱۴ ذکر تسبیحات اربعه را بنویسید.

۱۵ پیامبر (ص) در مورد نماز چه می‌فرماید؟

۱۶ چرا عشایر کوچ می‌کنند؟

۱۷ شغل مردم عشایر است.

۱۸) نقشه‌ی خانه چه چیزهایی را نشان می‌دهد؟

۱۹) نحوه‌ی زندگی مردم عشایر را توضیح دهید.

۲۰) در مناطق پر باران سقف خانه‌ها را می‌سازند.