



با مجوز رسمی از وزارت آموزش و پرورش
و سازمان منطقه آزاد کیش

به نام خداوند گردان سپهر

تاریخ: ۲۵ / دی ماه

نام و نام خانوادگی:

موضوع: مرور ریاضی (امتیازی)

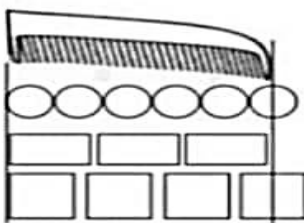


۱. ابتدا نقطه چین‌ها را کامل کن و بعد اندازه‌ی خودکار را بنویس.



اندازه‌ی خودکار بین و مربع می‌باشد.

۲. جاهای خالی را به شکل مناسب کامل کن.

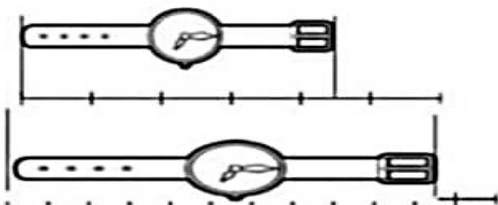


اندازه‌ی شانه بین و دایره می‌باشد.

اندازه‌ی شانه بین و مربع می‌باشد.

اندازه‌ی شانه مستطیل می‌باشد.

۳. با توجه به اندازه‌ی هر شکل جاهای خالی را کامل کن.



اندازه‌ی ساعت بین و می‌باشد.

اندازه‌ی ساعت بین و می‌باشد.

۴. اگر ۵ تا برابر با یکی باشد، به سوالات زیر پاسخ بده.

۲ تا برابر است با |

۳ تا برابر است با |

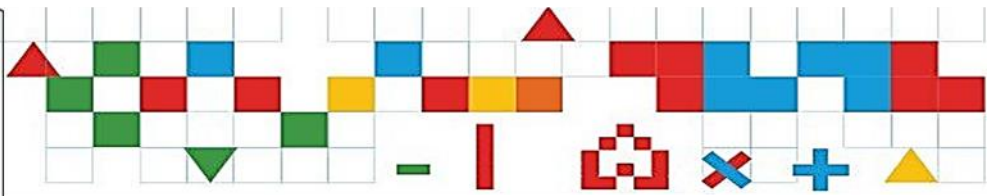
۴ تا برابر است با |

۵ تا برابر است با |

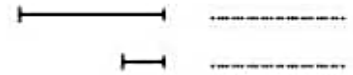
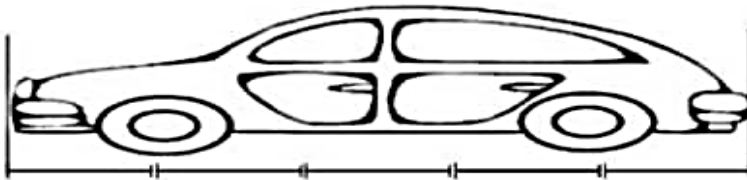
۶ تا برابر است با |

۷ تا برابر است با |



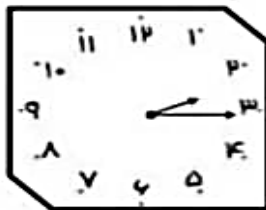


با توجه به سؤال صفحه‌ی قبل اندازه‌ی ماشین چند ————— و یا چند ————— است؟

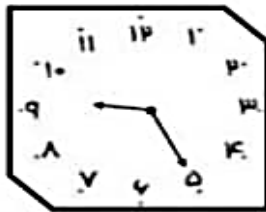
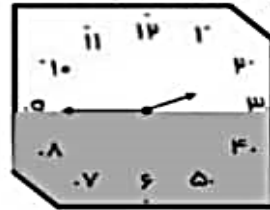


با توجه به ساعت‌های زیر مانند نمونه ابتدا برای ساعت‌های خالی عقربه بکش و بعد مقدار حرکت عقربه‌های

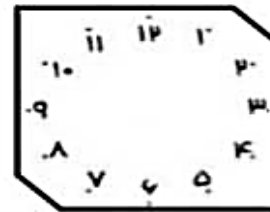
دقیقه شمار به عقب یا جلو را با رنگ آمیزی نشان بده.



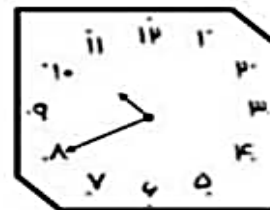
نیم ساعت بعد →



نیم ساعت بعد →



← نیم ساعت قبل



→ نیم ساعت بعد



← نیم ساعت قبل

