



# به نام خداوند گردان سپهر

تاریخ: ۲۶ / دی ماه

نام و نام خانوادگی:

موضوع: مرور ریاضی (امتیازی)



جای خالی را کامل کن.

۲ تا  ریالی می شود.....

۳ تا  ریالی می شود.....

یک  ریالی و دو  ریالی می شود.



۴ تا  ریالی می شود.....

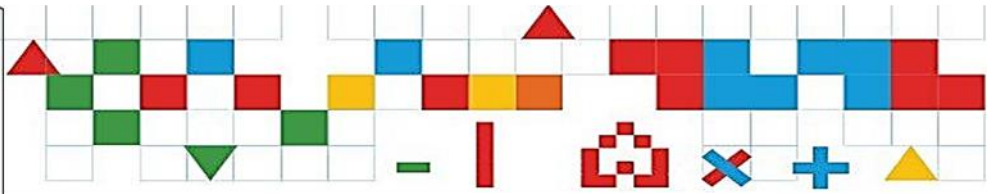
۵ تا  ریالی می شود....

مسئله ی زیر را با استفاده از تصویر حل کن

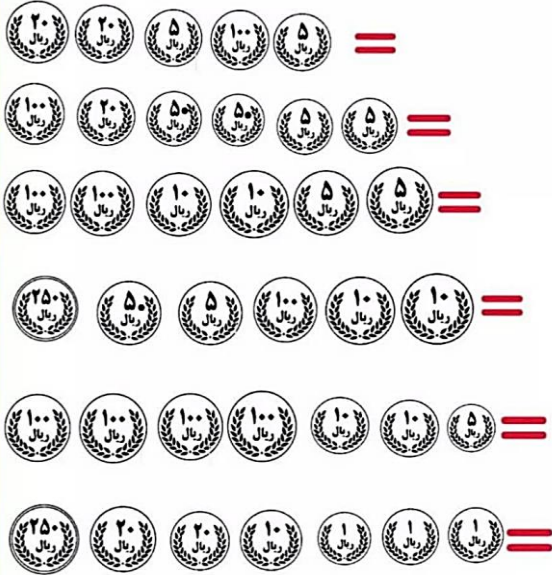
آیسا ۱۵۰۰ ریال و مریم ۳۰۰ ریال

دارد. آن دو روی هم چند ریال دارند؟

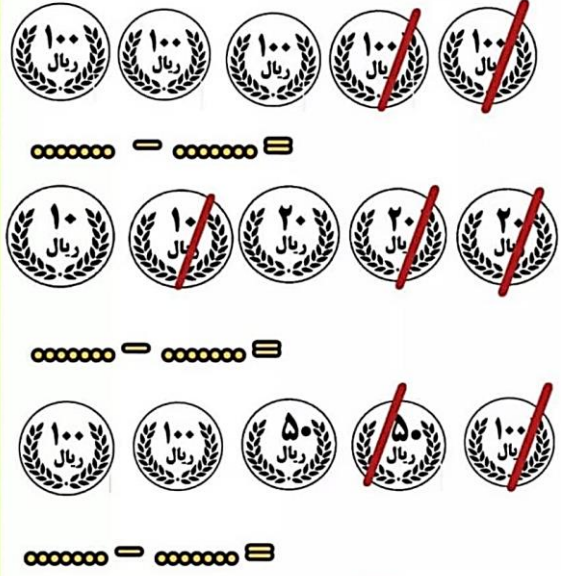




هر ردیف از سکه ها چند ریال است؟



جای خالی را کامل کن.



مسئله را با کمک تصویر حل کن.

عرفان ۲ تا بستنی خرید. او ۴ تا سکه ی ۱۰۰ ریالی و ۳ سکه ی ۵۰ ریالی و ۲ سکه ی ۲۰ ریالی به فروشنده داد. عرفان چند ریال پول بستنی داده است؟



مسئله را با کمک تصویر حل کن.

رضا ۳ تا سکه ی ۱۰۰ ریال دارد. او از پدرش ۳ تا ۵۰ ریالی دیگر می گیرد. رضا الان چند ریال دارد؟

