


نام و نام خانوادگی:

نام آزمون: ریاضی سوم - ضرب و تقسیم

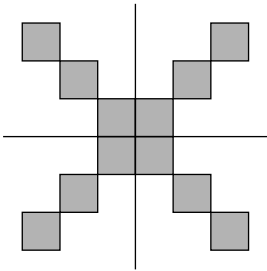
تاریخ تکلیف: ۱۴۰۲/۱۱/۲۵



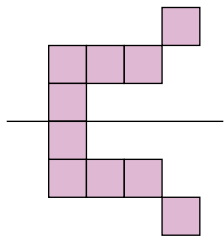
سپهر

۱ با کمک تقارن، تعداد مربع‌ها را پیدا کنید و یک عبارت ضرب بنویسید.

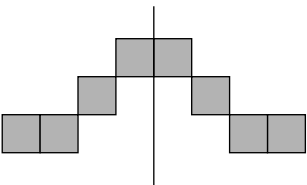
الف



..... × =



..... × =



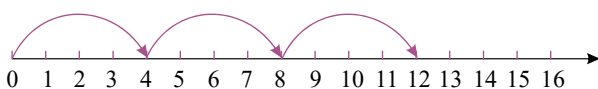
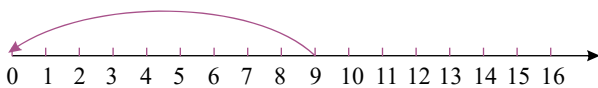
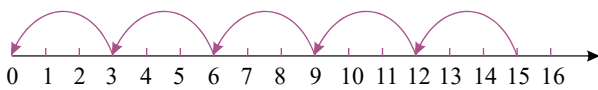
..... × =

ب

پ

۲ تساوی مربوط به هر محور را بنویسید.

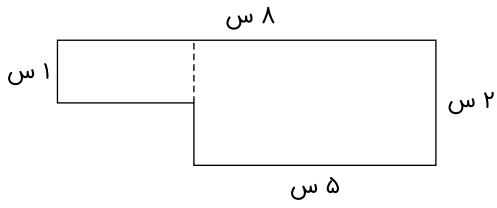
الف



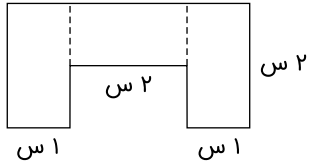
ب

پ

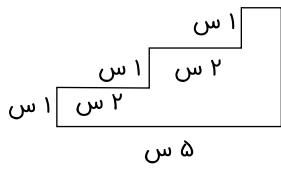
۳ با توجه به شکل داده شده، اندازه‌ی بقیه‌ی ضلع‌ها را در کنار آن‌ها بنویسید.



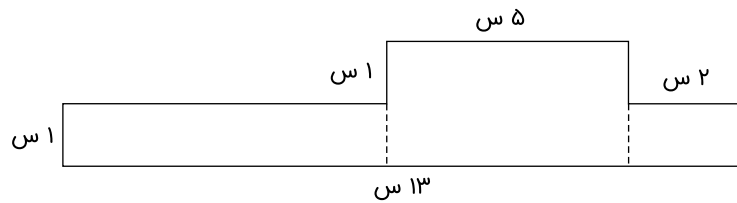
الف



ب



پ



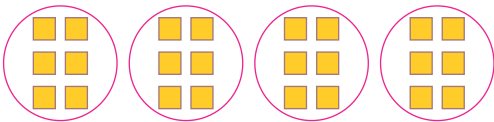
ت

۴ برای هر یک از شکل‌های زیر، یک تساوی ضرب بنویسید.

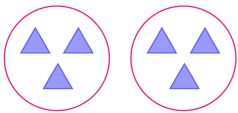
الف



... × ... = ...



... × ... = ...



... × ... = ...

ب

پ

۵ علی ۴ شاخه‌ی گل را بین خود و ۴ نفر از دوستانش به‌طور مساوی تقسیم می‌کند. به هر نفر چند شاخه‌ی گل می‌رسد؟

۶ در جاهای خالی علامت (<=>) بگذارید.

$4 \times 7 \square 7 \times 4$ $\frac{2}{5} \square \frac{2}{6}$ $\frac{6}{6} \square \frac{3}{3}$
 $\frac{3}{6} \square \frac{4}{6}$ $3 \times 2 \times 4 \square 24 \times 1$ ۲ ساعت \square دوتا نیم ساعت